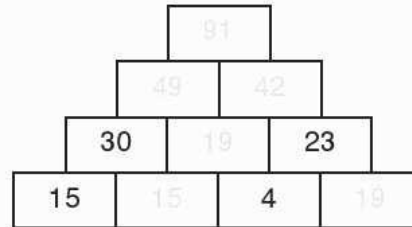
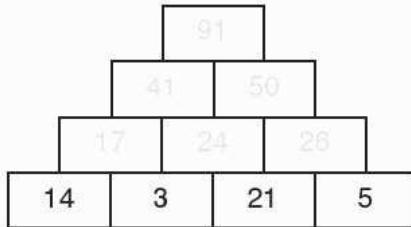


# Arbeitsblatt

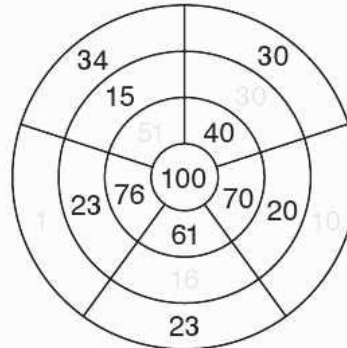
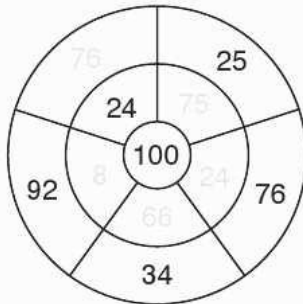
## Zahlen bis 100



1 Ergänze die Zahlenmauern.



2 Ergänze bis 100. Trage die entsprechenden Zahlen ein.



3 a) Löse das Zauberquadrat.

18	27	15
17	20	23
25	13	22

b) Erfinde ein Zauberquadrat mit der Zauberzahl 100.


4 Erfinde eine Rechengeschichte zum Schulfest mit Zahlen bis 100.

---



---



---



---

